



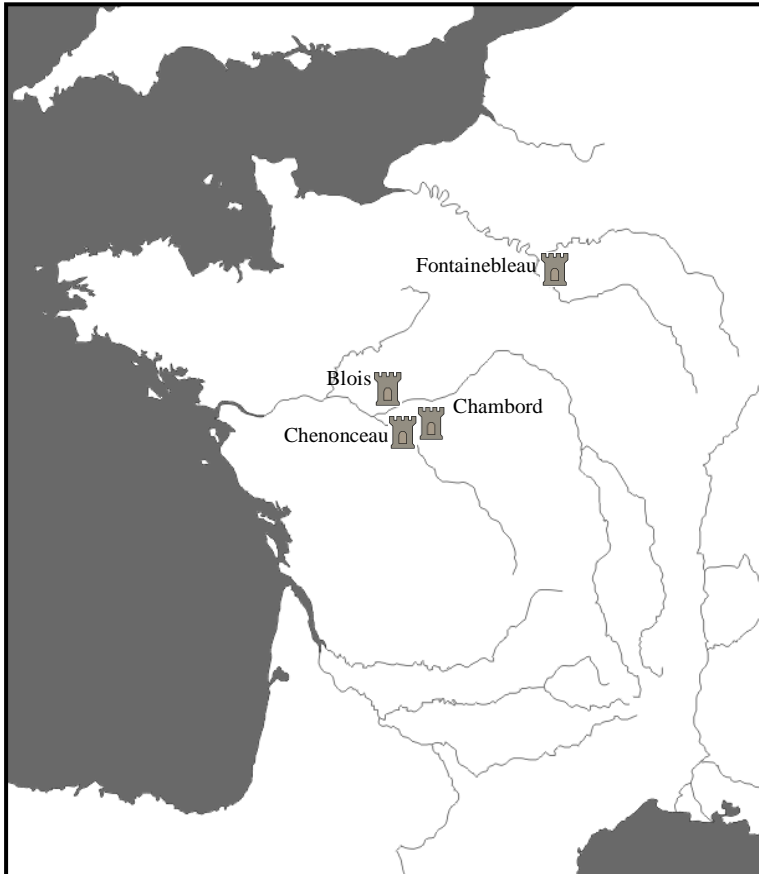


Prénom :

Les châteaux de la Loire

- 1 Repasse en bleu la Loire et la Seine et indique leur nom.
- 2 Numérote les phrases puis relie chaque château à son emplacement sur la carte.
- 3 Entoure en rouge la région des châteaux de la Loire.



- Le **château de Chenonceau** est réputé pour sa grande galerie qui enjambe le Cher, l'un des affluents de la Loire.
- Demeure préférée de François 1^{er}, le **château de Fontainebleau** est célèbre pour son escalier du Fer-à-cheval.
- François 1^{er} lance la construction d'une nouvelle aile de style Renaissance **au château médiéval de Blois**. La direction des travaux est donnée à un architecte italien qui érige l'escalier monumental.
- Le **château de Chambord** est le plus grand des châteaux de la Loire. On y compte par exemple 426 pièces, 77 escaliers et 282 cheminées.